

МУНИЦИПАЛЬНЫЙ ЭТАП ВСЕРОССИЙСКОЙ ОЛИМПИАДЫ ШКОЛЬНИКОВ  
2022/2023 УЧЕБНОГО ГОДА ПО ОСНОВАМ БЕЗОПАСНОСТИ  
ЖИЗНЕДЕЯТЕЛЬНОСТИ

Призер

Код/шифр участника

К	В	—	1	—	7
---	---	---	---	---	---

Каримов Виталий  
Владимирович

(фамилия, имя, отчество)

7

(класс)

МКОУ Шадричская  
СОШ

(полное наименование образовательной организации)

Т-33

П-28


**ВСЕРОССИЙСКАЯ ОЛИМПИАДА ШКОЛЬНИКОВ ПО ОСНОВАМ  
БЕЗОПАСНОСТИ ЖИЗНЕДЕЯТЕЛЬНОСТИ  
(МУНИЦИПАЛЬНЫЙ ЭТАП)  
ТЕОРЕТИЧЕСКИЙ ТУР  
возрастная группа (7-8 классы)**

**МОДУЛЬ 1**

**ЗАДАНИЕ 1.**

Осмотрю кот м никово фото  
заметила во время газ воберег из  
дома отойду подальше позвоню по  
номеру он укажет или валимю откесто  
р-н, край, улицу, дом, квартиру буду  
ждать приезда полиции.


Оценочные баллы: максимальный – 10 баллов; фактический – 4 баллов

Подписи членов жюри 

**ЗАДАНИЕ 2**

Забаррикадируем дверь залезть  
под парку-спрятаться и сесть в машину

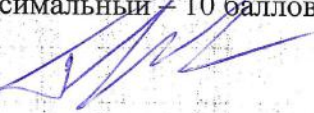
Оценочные баллы: максимальный – 5 баллов; фактический – 2 баллов

Подписи членов жюри 

**ЗАДАНИЕ 3**

А	Б	В	Г	Д
1	1	2	2	2

Оценочные баллы: максимальный – 10 баллов; фактический – 8 баллов

Подписи членов жюри 

**ЗАДАНИЕ 4**

Заполните таблицу «Социальные опасности по природе и форме воздействия на человека»

<i>Примеры</i>	<i>Виды социальных опасностей по природе и форме воздействия на человека</i>
Шантаж, мошенничество, воровство	
Разбой, бандитизм, террор, изнасилование, заложничество	
Наркомания, алкоголизм, курение	
СПИД, венерические заболевания, туберкулез	

Дайте определение

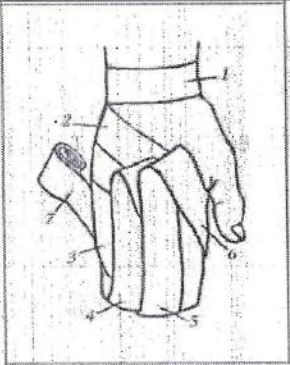
Бандитизму \_\_\_\_\_

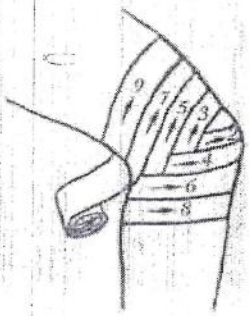
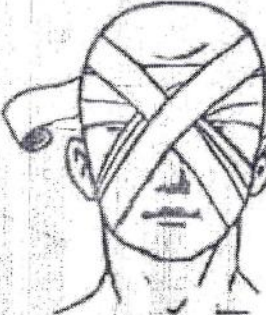
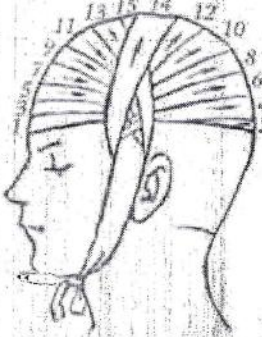
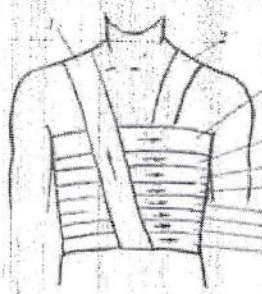
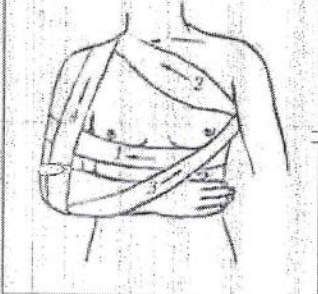
Оценочные баллы: максимальный – 10 баллов; фактический – \_\_\_\_\_ баллов

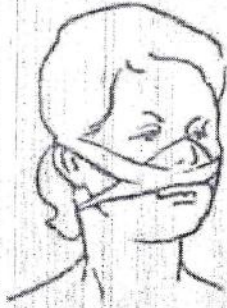
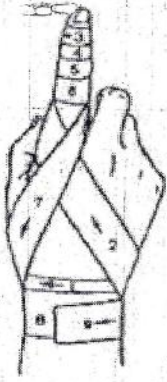
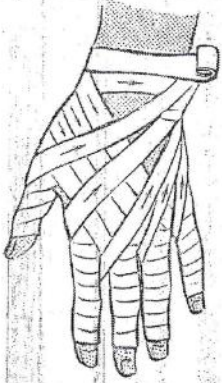
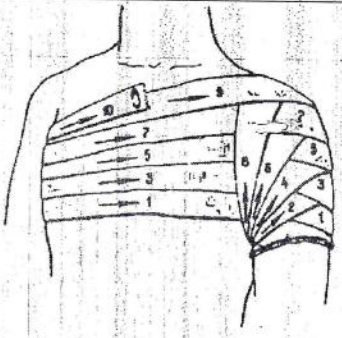
Подписи членов жюри \_\_\_\_\_

**ЗАДАНИЕ 5**

Заполните таблицу «Виды повязок»

№	Рисунок повязки	Название повязки
1		

<p>2</p>			
<p>3</p>			
<p>4</p>			<p>перевязка повязка при сотрясении мозга.</p> <p style="text-align: center;">1</p>
<p>5</p>			<p>перевязка при <del>печеночной</del> грудно-позвоночных частей</p>
<p>6</p>			<p>перевязка при переднем (заднем) разрыве.</p>

7		<p>повязка, при переломе носа.</p>
8		<p>при вывихе к- (перелом) пальца.</p>
9		
10		<p>при вывихе л- плеча (перелом)</p>

Оценочные баллы: максимальный – 10 баллов; фактический – \_\_\_\_\_ баллов

Подписи членов жюри

За Модуль 1 – 40 баллов

**МОДУЛЬ 2**  
**Тестовые задания**

№	Вопрос	Ответ
Определите один правильный ответ За каждый правильный ответ начисляется по 2 балла		
1	1. Вы почувствовали в квартире запах газа. По какому номеру телефона нужно вызвать специалистов по стационарному телефону? А) 03; <input checked="" type="radio"/> Б) 04; В) 02.	Б      2
2	Химические и биологические средства, используемые для борьбы с вредителями и болезнями растений, с сорной растительностью называются: А) тяжелые металлы; <input checked="" type="radio"/> Б) удобрения; В) пестициды; Г) детергенты	Б      -
3	Какой буквой обозначается север на компасах? <input checked="" type="radio"/> А) S; Б) N; В) W; Г) E.	А      -
4	Что такое эпидемия? <input checked="" type="radio"/> А) инфекционные заболевания среди людей; Б) заразные болезни среди животных; В) заразные болезни среди растений; Г) отравление вредными веществами; Д) инфекционное заболевание, переносчиком которого является большая панда (бамбуковый медведь).	А      2
5	Где наиболее безопасно находиться во время грозы? А) на возвышенности; Б) у входа в пещеру; В) среди невысоких деревьев с густыми кронами; <input checked="" type="radio"/> Г) в скальной яме	Г      -
6	Какой сигнал рукой должен подать велосипедист, чтобы обозначить остановку? А) вытянутая в сторону и согнутая в локте под прямым углом вверх правая рука; <input checked="" type="radio"/> Б) поднятая вверх левая или правая рука; В) руки вытянуты в стороны или подняты вверх; Г) вытянутая в сторону и согнутая в локте под прямым углом вверх левая рука	Б      2
7	Какого вида костра не существует?	

	А) колодец; Б) шалаш; <input checked="" type="radio"/> В) луна. Г) таёжный.	В 2
8	К коллективным средствам защиты относят: А) противогазы; Б) противорадиационные укрытия; В) средства защиты кожи; <input checked="" type="radio"/> Г) респираторы	Г -
9	Способ передачи возбудителя гриппа: <input checked="" type="radio"/> А) воздушно-капельный; Б) инъекционный; В) контактный; Г) пищевой	А 2
10	Наиболее опасный вид кровотечения: А) венозное; <input checked="" type="radio"/> Б) артериальное; В) капиллярное	Б 2
Определите два правильных ответа За каждый правильный ответ начисляется по 2 балла		
11	Какое положение рук поможет обеспечить личную безопасность в толпе при давке? А) руки находятся возле груди; <input checked="" type="radio"/> Б) руки согнуты в локтях; В) руки находятся возле бёдер; Г) руки согнуты в кистях; Д) руки находятся в грудных карманах.	Б 2
12	Что из перечисленного есть в углекислотном огнетушителе? А) сифон; Б) баллончик; В) распылитель; Г) запорно-пусковое устройство; Д) насадка	<del>Б, Г, Д</del>
13	Какие службы входят в систему обеспечения безопасности города: А) служба городского пассажирского транспорта; Б) служба связи и городская справочная служба; В) «скорая помощь» и служба спасения; Г) метеорологическая служба и служба охраны окружающей среды; Д) пожарная охрана и полиция.	<del>А, Б, Г</del>
14	Лучшей защитой от смерча являются: А) подвальные помещения; Б) глубокие рвы; В) овраги и котлованы; Г) подземные сооружения; Д) верхние этажи зданий	В -

415	<p>Какое значение имеет жёлтый мигающий сигнал светофора?</p> <p>А) разрешает движение и информирует о наличии нерегулируемого перекрёстка;</p> <p><input checked="" type="radio"/> Б) предупреждает об опасности;</p> <p>В) запрещает движение;</p> <p>Г) разрешает движение.</p>	Б
146	<p>Признаки закрытого перелома конечности:</p> <p>А) сильная боль;</p> <p>Б) нет усиления боли при резком движении;</p> <p>В) зуд в месте повреждения;</p> <p><input checked="" type="radio"/> Г) отёчность в месте повреждения;</p> <p><input checked="" type="radio"/> Д) деформация и отёчность в месте повреждения.</p>	Г, Д, А
17	<p>Какие узлы предназначены для связывания двух веревок?</p> <p>А) булинь;</p> <p>Б) встречный;</p> <p>В) академический;</p> <p>Г) питона</p>	Б 2
18	<p>К горючим веществам относятся:</p> <p>А) трудновоспламеняющиеся;</p> <p>Б) взрывоопасные;</p> <p>В) газообразные;</p> <p>Г) легковоспламеняющиеся</p>	Г. 2
19	<p>Из ниже перечисленных объектов выберите те, которые могут являться линейными ориентирами:</p> <p>А) летящий самолет;</p> <p>Б) линии электропередач и дороги;</p> <p>В) граница леса, просека;</p> <p>Г) движущийся автотранспорт и сельскохозяйственная техника.</p>	<del>Б, В, Г</del>
20	<p>Покрывало спасательное изотермическое накладывается серебристой стороной внутрь (к пострадавшему) при:</p> <p>А) травматическом шоке;</p> <p>Б) тепловом ударе;</p> <p>В) солнечном ударе</p> <p>Г) значительном повышении температуры тела при инфекционных заболеваниях;</p> <p><input checked="" type="radio"/> Д) переохлаждении</p>	2

За каждый правильный ответ – 2 балла.

За Модуль 2 -60 баллов

За теоретический этап 40+60= 100 баллов



КВ - 1 - 7

Карнишев "Молния" Висоцкий  
ПРИЗЕР

**ВСЕРОССИЙСКАЯ ОЛИМПИАДА ШКОЛЬНИКОВ ПО ОСНОВАМ  
БЕЗОПАСНОСТИ ЖИЗНЕДЕЯТЕЛЬНОСТИ  
(МУНИЦИПАЛЬНЫЙ ЭТАП)  
ПРАКТИЧЕСКИЙ ТУР  
возрастная группа (7-8 классы)**

**ЗАДАНИЕ 1**

Надевание средств индивидуальной защиты.

№ п/п	Перечень ошибок и погрешностей	Штраф (баллы)
При надевании на себя защитного костюма и противогаза:		
1.	Выбран костюм, не соответствующий росту участника	
2.	Не надет капюшон	
3.	Перчатки не заправлены в рукава	
4.	Не застёгнуты шпальки на манжетах куртки и чулок	
При выходе из зоны заражения и снятии средств защиты:		
5.	После выхода из зоны заражения неправильно выбрано направление ветра	
6.	Каждое касание одеждой и открытыми участками тела внешней стороны средств защиты	
7.	ОЗК или Л-1 надеты с превышением контрольного времени норматива.	
	<b>СУММА ШТРАФНЫХ БАЛЛОВ</b>	
	<b>ИТОГО БАЛЛОВ</b>	

Оценочные баллы: максимальный – 20 баллов; фактический – 20 баллов

Подписи членов жюри

**ЗАДАНИЕ 2**

Перестегивание карабинов с разной конструкцией муфт.

**Условия:** в обозначенном секторе участнику необходимо перестегнуть и замуфтовать за 1 минуту по одному 6 штук карабинов с разной конструкцией муфт на другую веревку.

**Оценка задания.** Максимальная оценка за правильно выполненное задание – 10 баллов.

№ п/п	Перечень ошибок и погрешностей	Штраф (баллы)	Количество ошибок (нарушений)

1	Не завинчена муфта карабина	1	2
2	Не перестегнут карабин на другую веревку	2	
	ИТОГО БАЛЛОВ		

Оценочные баллы: максимальный – 10 баллов; фактический – 8 баллов

Подписи членов жюри

---

### ЗАДАНИЕ 3

Завяжите четыре узла для связывания веревки одинакового диаметра.

**Оценка задания.** Максимальная оценка за правильно выполненное задание – 20 баллов.

№ п/п	Перечень ошибок и погрешностей	Штраф (баллы)	Количество ошибок (нарушений)
1	Отсутствие контрольного узла	5	
2	Перекручены пряди в узле	3	
3	Неправильно завязан узел	10	
4	Завязан не тот узел	10	
	ИТОГО БАЛЛОВ		

Оценочные баллы: максимальный – 20 баллов; фактический – 0 баллов

Подписи членов жюри

---

### ЗАДАНИЕ 4

Мужчина получил удар кулаком в лицо. Асимметрия лица за счёт отёка мягких тканей, гематома в области нижней челюсти, нарушение прикуса, симптом «ступеньки» по нижнечелюстному краю, крепитация отломков.

Задания 1. Определите неотложное состояние пациента.

2. Составьте алгоритм оказания доврачебной помощи.

3. Продемонстрируйте технику наложения повязки – «уздечка».

**Оценка задания.** Максимальная оценка за правильно выполненное задание – 15 баллов.

№	Перечень ошибок и погрешностей	Штраф	Количество ошибок
---	--------------------------------	-------	-------------------

п/п		(баллы)	(нарушений)
1	Неверно определено неотложное состояние пострадавшего	5	
2	Неверно определен алгоритм оказания первой помощи	5	
3	Неправильная демонстрация повязки уздечка	5	
	<b>ИТОГО БАЛЛОВ</b>		

Оценочные баллы: максимальный – 15 баллов; фактический – 5 баллов

Подписи членов жюри

---

### ЗАДАНИЕ 5

В результате удара по переносице кулаком началось обильное выделение крови. Пострадавший беспокоен, сплёвывает кровь, частично её проглатывает.

- Задания 1. Определите неотложное состояние пациента.
- Составьте алгоритм оказания доврачебной помощи.
- Продемонстрируйте технику остановки носового кровотечения.

**Оценка задания.** Максимальная оценка за правильно выполненное задание – 15 баллов.

№ п/п	Перечень ошибок и погрешностей	Штраф (баллы)	Количество ошибок (нарушений)
1	Неверно определено неотложное состояние пострадавшего	5	
2	Неверно определен алгоритм оказания первой помощи	5	
3	Неправильная демонстрация техники остановки кровотечения	5	
	<b>ИТОГО БАЛЛОВ</b>		

Оценочные баллы: максимальный – 15 баллов; фактический – 10 баллов

Подписи членов жюри

---

### ЗАДАНИЕ 6

В школьной столовой у ученицы 8 класса во время торопливой еды и разговора появился судорожный кашель, затруднение дыхания. Её беспокоит боль в области гортани. Пациентка растеряна, говорит с трудом, испытывает страх. Лицо цианотично. Осиплость голоса. Периодически повторяются приступы судорожного кашля и шумное дыхание с затруднением вдоха.

Задания 1. Определите неотложное состояние пациента.

2. Составьте алгоритм оказания доврачебной помощи.

3. Продемонстрируйте технику проведения искусственной вентиляции легких (ИВЛ).

**Оценка задания.** Максимальная оценка за правильно выполненное задание – 20 баллов.

№ п/п	Перечень ошибок и погрешностей	Штраф (баллы)	Количество ошибок (нарушений)
1	Неверно определено неотложное состояние пострадавшего	5	
2	Неверно определен алгоритм оказания первой помощи	5	
3	Неправильная демонстрация техники проведения искусственной вентиляции легких	10	
	<b>ИТОГО БАЛЛОВ</b>		

Оценочные баллы: максимальный – 20 баллов; фактический – 5 баллов

Подписи членов жюри

---